
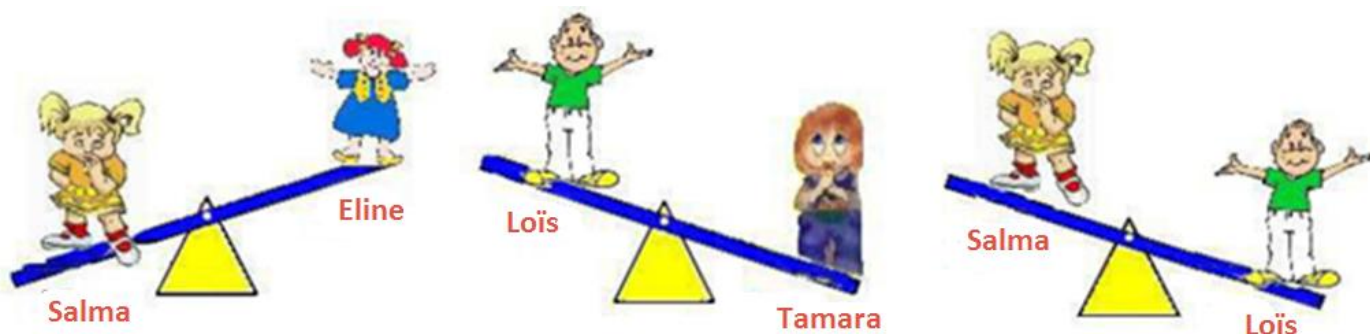


**Préparation d'une séance d'acrogym**



Pour faire une figure, le maître a besoin de **ranger 4 élèves du plus lourd au plus léger..**

Pour cela, il se sert d'une balançoire.



Pourrais-tu aider le maître ?

**Ecris ci-dessous les prénoms des élèves pour qu'ils soient rangés du plus lourd au plus léger.**


--	--	--	--

**Au voleur !**

Dans le vestiaire du gymnase, un vol vient d'être commis. La police arrête 8 suspects.


Arnaud a vu le voleur et il donne les informations suivantes à la police :

- Le coupable a des lunettes, il porte un chapeau.
- Il a une moustache mais n'a pas de barbe

			
ALBERT	ARTHUR	ACHILLE	ARSENE
			
ANATOLE	ARISTIDE	ANDRE	ADRIEN

Qui est le coupable ? \_\_\_\_\_

**1,2,3, partez !**



Quatre garçons font une course.

Paul est devant Cyprien.

Gaël est derrière Rachid.

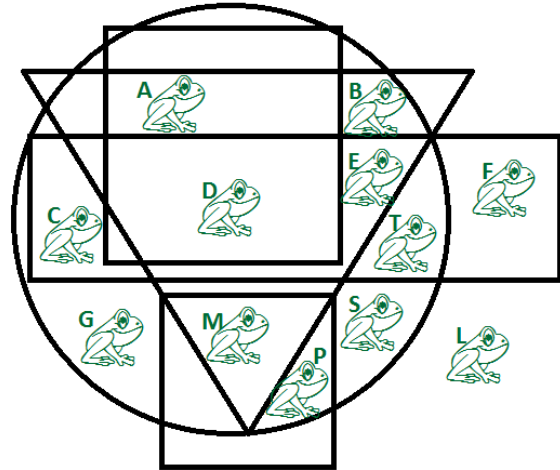
Gaël est devant Paul.

**Écris le nom de chaque coureur dans la case correspondante.**

**La championne du monde de saut en longueur chez les grenouilles**

Cette grenouille se cache.

- Elle est dans un cercle.
- Elle est dans un carré.
- Elle n'est pas dans un triangle.



Indique la lettre qui correspond à la grenouille championne du monde :

**Jour 5 : Numération et gestion des données**

**niveau 1**

**Le nombre mystère**

Au vestiaire, Alice fait deviner le numéro de son casier à Sarah.

Pour cela elle lui dit :

- « Ce nombre est plus grand que 30 et plus petit que 50 ;
- ce nombre n'a pas de chiffre 4 ;
- si j'additionne tous les chiffres de ce nombre, je trouve la somme 11. »

Quel nombre est inscrit sur le casier d'Alice ?

Sources :

D'après

<http://www2.ac-lyon.fr/etab/ien/rhone/ism/spip.php?article296>

[http://web.ac-reims.fr/dsden52/ien.langres/file/Defis\\_mathematiques/Defis\\_c2\\_jan\\_2012.pdf](http://web.ac-reims.fr/dsden52/ien.langres/file/Defis_mathematiques/Defis_c2_jan_2012.pdf)